



一年 _____ 班 _____ 號 姓名：_____ 家長簽章：_____

① 怎麼付錢才會剛好？用品

50、10、5 或 1 畫畫看看。


(每題 2 分，共 4 分)

1.  45 元


2.  98 元

② 要付多少元才會剛好？


圈圈看看。(每題 2 分，共 6 分)

1.  ⑩ ⑩ ⑩ ⑩ ⑩
⑩ ⑩ ⑩ ⑩ ⑩
① ① ① ① ①
① ① ① ① ①

59 元

2.  ⑩ ⑩ ⑩ ⑩ ⑩
⑩ ⑩ ⑩ ⑩ ⑩
① ① ① ① ①
① ① ① ① ①

99 元

3.  ⑩ ⑩ ⑩ ⑩ ⑩
⑩ ⑩ ⑩ ⑩ ⑩
① ① ① ① ①
① ① ① ① ①

73 元

③ 按照順序填填看看。

(每格 1 分，共 16 分)

1. 33 32 28 27

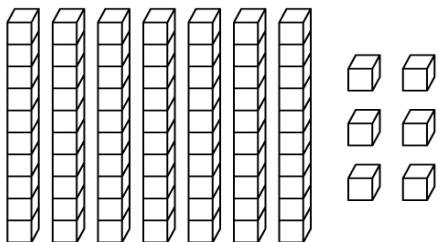
2. 94 95 96 98

3. 100 80 50

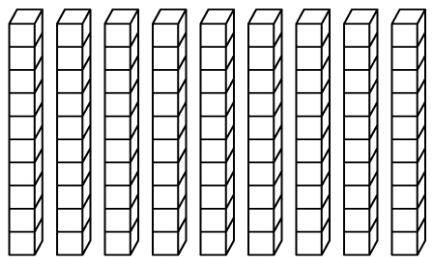
4. 82 72 42 32

5. 64 65 67 68

④ 填填看看。(每格 2 分，共 16 分)

1. 

有 () 個十和 () 個一，
合起來是 () 個，拿走 1
個，剩下 () 個。

2. 

有 () 個十和 () 個一，
合起來是 () 個，再加
上 一條，共有 () 個。

⑤ 填填看看。(每格 2 分, 共 28 分)

(1) 9 個十和 0 個一合起來是 ()。


(2) 6 個一和 2 個十合起來是 ()。

(3) 4 個十和 15 個一合起來是 ()。

(4) 48 可以分成 () 個一和 () 個十。

(5) 把 63、56、71 由大到小排出來。



(6) 莉莉想買一個  50 元。

用 50 來付, 要付 () 個;

用 10 來付, 要付 () 個;

用 5 來付, 要付 () 個;

用 1 來付, 要付 () 個。

(7) 個位數是 8, 而且比 38 小的二位數有 () 和 ()。

十位	個位
	8

⑥ 比比看看, 最大的數畫 ○, 最小的數打 ×。

(每題 3 分, 共 12 分)

1.

85	89	86
----	----	----

() () ()

2.

56	96	76
----	----	----

() () ()

3.

91	83	59
----	----	----

() () ()

4.

62	49	76
----	----	----

() () ()

⑦ 要找回多少元? 畫畫看看。

(每題 3 分, 共 6 分)

1. 買一盒 40 元的水餃, 付了 50, 要找回多少元?

找回 () 元

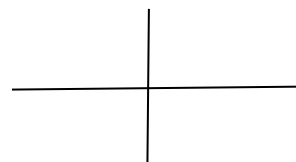
2. 買一瓶 64 元的洗面乳, 付了 7 個 10, 要找回多少元?

找回 () 元

⑧ 寫出算式和答案。(要畫錢幣) (每題 4 分, 共 12 分)

1. 溫蒂有 38 元, 媽媽又給她 31 元, 溫蒂現在有幾元?

算式:



答: () 元

2. 弟弟有 57 張彩色紙, 摺紙鶴用掉 12 張, 還剩下幾張彩色紙?

算式:

答: () 張

3. 老師把 35 盒蠟筆分給班上 8 個小朋友後, 還剩下幾盒蠟筆?

算式:

答: () 盒